

DEUXIÈME ANNÉE

MON CAHIER DE PROBLÈMES ÉCRITS



Nom : _____

PROBLÈME # 1


Les cachettes du jardin

Nestor a caché 27 os de poulet dans le jardin.

Il a aussi caché 36 os de veau.

Combien y-a-t-il d'os dans les cachettes du jardin?

Note comment tu as fait.



DESSIN (S)


CALCUL (S)

La réponse est: _____

PROBLÈME # 2

Les œufs de la fermière

La fermière a 24 œufs dans son panier.
Elle va au poulailler et en ramasse 19 autres.
Combien a-t-elle d'œufs à vendre maintenant?
Note comment tu as fait.



DESSIN (S)

CALCUL (S)



La réponse est: _____


PROBLÈME # 3

Le spectacle de chevaux

J'ai vu 35 chevaux faire leur numéro. Il y en avait des blancs, des bruns et des noirs. J'ai vu 17 noirs et 5 blancs.

Combien y avait-il de chevaux bruns?

Note comment tu as fait.



DESSIN (S)

CALCUL (S)

La réponse est: _____

PROBLÈME # 4

Le dragon dans la forêt

Le dragon crache et met le feu à 24 arbres.

Il a raté 37 arbres.

Combien a-t-il visé d'arbres?

Note comment tu as fait.



DESSIN (S)

CALCUL (S)



La réponse est: _____

PROBLÈME # 5


Les poussins

Codette, la poule a eu 23 poussins ce matin.

Hier soir, Cocodé, sa sœur, a eu 15 poussins.

Combien y-a-t-il de poussins en tout?

Note comment tu as fait.



DESSIN (S)

CALCUL (S)

La réponse est: _____

PROBLÈME # 6

Monsieur Hibou à l'épicerie

Monsieur Hibou fait ses courses.

La viande coûte 34 dollars et le dessert
coûte 18 dollars.

Il a 90 dollars dans son porte-monnaie.

Combien lui restera-t-il?

Note comment tu as fait.



DESSIN (S)

CALCUL (S)

La réponse est: _____



PROBLÈME # 7


Les oiseaux

43 oiseaux ont passé devant le soleil ce matin.

Durant l'après-midi, il y en a encore 28 qui ont volé devant le soleil.

Combien d'oiseaux sont passés devant le soleil pendant la journée?

Note comment tu as fait.



DESSIN (S)

CALCUL (S)

La réponse est: _____


PROBLÈME # 8

Le foin

Le fermier a 68 kilos de foin pour son cheval dans la grange.
Aujourd'hui, il ramasse encore 34 kilos de foin sur son terrain.

Combien y-a-t-il de kilos de foin en tout?

Note comment tu as fait.



DESSIN (S)

CALCUL (S)

La réponse est: _____


PROBLÈME # 9

Les pingouins à la pêche

Aujourd'hui 18 avril, les pingouins ont pêché 28 sardines et 45 saumons.

Combien ont-ils pêché de poissons?

Note comment tu as fait.



DESSIN (S)


CALCUL (S)



La réponse est: _____

PROBLÈME # 10

Madame la girafe



Madame Girafe a compté 14 taches brunes sur ses pattes.

Elle a 97 taches sur tout son pelage.

Combien de taches a-t-elle sur son corps?

Note comment tu as fait.

DESSIN (S)

CALCUL (S)

La réponse est: _____

PROBLÈME # 11


Les ballons

Mélanie a décoré sa chambre avec 24 ballons.

Sarah a décoré la sienne avec 27 ballons

Combien ont-elles de ballons en tout?

Note comment tu as fait.



DESSIN (S)

CALCUL (S)

La réponse est: _____


PROBLÈME # 12

La fête des tortues

À la fête des tortues, il y a 53 tortues
vertes et 28 tortues jaunes.

Combien de tortues sont venues
à la fête?

Note comment tu as fait.



DESSIN (S)

CALCUL (S)

La réponse est: _____

PROBLÈME # 13

Les tigres et les souris

Monsieur Tigre a attrapé 23 souris et 8 lapins.

Bébé tigre, quant à lui, a attrapé 28 souris.

Combien ont-ils attrapé de souris?

Note comment tu as fait.



DESSIN (S)

CALCUL (S)



La réponse est: _____

PROBLÈME # 14


Les cœurs à la fête des mères

Pour la fête des mères, Maxime a dessiné 18 cœurs,
Lionel en a dessiné 17 et Ludovic a dessiné 13 étoiles.
Combien ont-ils dessiné de cœurs?
Note comment tu as fait.




DESSIN (S)

CALCUL (S)



La réponse est: _____



Pascale Simard-Gagné | 2010 | <http://moncartable.com/uf.com>